

ДЕМОНСТРАЦИОННЫЙ ВАРИАНТ
 проверочных материалов для промежуточной аттестации учащихся 7 классов
 в форме Заочного образования и Самообразования
 по ГЕОГРАФИИ

Демонстрационный вариант дает возможность составить представление о структуре работы, количестве заданий, их форме и уровне сложности.

Спецификация

- Все задания представляют собой закрытый вопрос или вопрос, требующий краткого ответа.
- Количество заданий в демонстрационном варианте совпадает с количеством заданий в аттестации и составляет 20 вопросов.
- Вариант не содержит письменных работ.

Проверяемый результат обучения
Географические модели. Географическая карта, план местности.
Географические модели. Географическая карта, план местности.
Выдающиеся географические исследования, открытия и путешествия.
Земная кора и литосфера. Состав, строение и развитие.
Земная кора и литосфера. Формы рельефа суши.
Земная кора и литосфера. Состав, строение и развитие. Рельеф земной поверхности.
Земная кора и литосфера. Состав, строение и развитие. Рельеф земной поверхности.
Земная кора и литосфера. Состав, строение и развитие. Рельеф земной поверхности.
Атмосфера. Распределение тепла и влаги. Погода и климат.
Атмосфера. Состав, строение, циркуляция.
Гидросфера. Мировой океан, его части.
Гидросфера. Поверхностные воды.
Гидросфера. Мировой океан, его части. Состав вод МО.
Географическая оболочка. Широтная зональность и высотная поясность.
Географическая оболочка Земли. Широтная зональность и высотная поясность.
Население Земли. Численность населения.
Основные черты природы Африки. Географическое положение.
Материки и страны. Многообразие природных зон.
Основные черты природы Южной Америки. Климат.
Материки и страны.

Материки и страны.
Основные черты природы Австралии. Многообразие растений и животных
Основные черты природы Евразии. Географическое положение.
Основные черты природы Евразии. Рельеф
Материки и страны. Многообразие стран Евразии.

1 модуль

Тестовые задания

1. Поставьте точки на карте по приведённым ниже координатам. Обозначьте эти точки соответственно цифрами 1 и 2.

Точка 1 — 5° ю. ш.; 55° з. д.

Точка 2 — 5° ю. ш.; 35° в. д.

В каком направлении от точки 2 находится точка 1?

Ответ: _____.

2. В каком направлении от острова Куба расположен полуостров Флорида.

Ответ: _____.

3. На карте мира изображён маршрут экспедиции одного из путешественников, портреты которых представлены ниже. Маршрут экспедиции кого из путешественников изображён на карте? Запишите в ответе имя и фамилию путешественника.



Джеймс Кук



Христофор Колумб



Фернан Магеллан



Ответ: _____.

4. На каких из перечисленных островов имеются действующие вулканы?

- 1) Мадагаскар
- 2) Шри-Ланка
- 3) Хонсю
- 4) Сахалин

Укажите номера ответов через запятую, без пробелов.

Ответ: _____.

5. Верны ли следующие утверждения о процессах, происходящих в литосфере?

А. Изменение положения материков показывают, что литосферные плиты движутся.

Б. Литосфера изменяет своё положение вертикально — это медленное поднятие и опускание материков.

- 1) верно только А
- 2) верно только Б
- 3) верны оба утверждения
- 4) оба утверждения неверны

Укажите номер ответа.

Ответ: _____.

6. С помощью карт атласа определите, на территории какого из перечисленных островов наиболее вероятны сильные землетрясения?

- 1) Ирландия
- 2) Мадагаскар
- 3) Гренландия
- 4) Суматра

Укажите номер ответа.

Ответ: _____.

7. Расположите горы, обозначенные цифрами, в порядке увеличения абсолютной высоты их высочайших вершин.

- 1) Анды
- 2) Альпы
- 3) Аппалачи

Запишите в таблицу цифры в нужной последовательности.

Ответ:

--	--	--

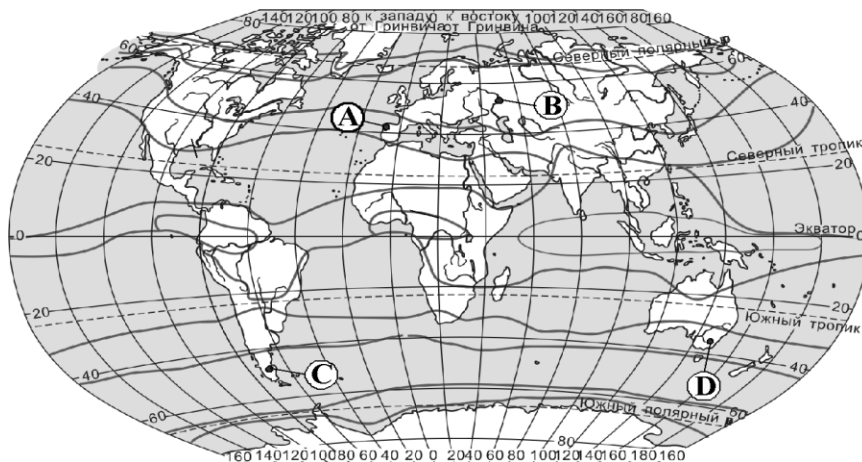
Задание 8 выполняется с использованием климатограммы.

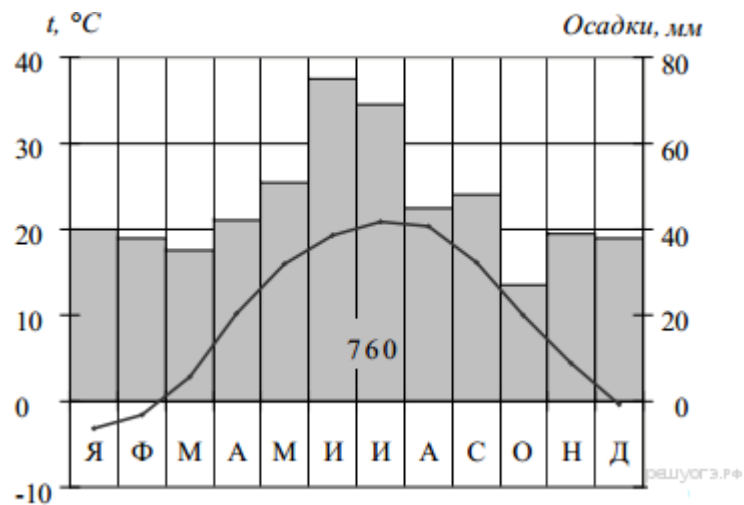
8. Проанализируйте климатограмму и определите, какой буквой на карте обозначен пункт, характеристики климата которого отражены в климатограмме.

- 1) А
- 2) В
- 3) С
- 4) D

Укажите номер ответа.

Ответ: _____.





Задание 9 выполняется с использованием приведенного ниже фрагмента текста.

9. Тихоокеанские муссоны принесли сильные ливневые дожди в северо-восточные районы Китая. Общее количество выпавших атмосферных осадков в 2 раза превысило обычную для этого времени года норму. В провинции Ляонин реки вышли из берегов. Некоторые деревни оказались на грани затопления.

Какую из перечисленных карт необходимо выбрать для того, чтобы определить, каково среднегодовое количество атмосферных осадков в северо-восточных районах Китая?

- 1) физическую
- 2) геологическую
- 3) климатическую
- 4) природных зон

Укажите номер ответа.

Ответ: _____.

10. Какое из перечисленных океанических течений тёплое?

- 1) Лабрадорское
- 2) Перуанское
- 3) Бенгельское
- 4) Бразильское

Укажите номер ответа.

Ответ: _____.

11. Средняя солёность поверхностных вод Красного моря составляет 42‰. Определите, сколько граммов солей растворено в 3 литрах его воды.

В ответе напишите только число.

Ответ: _____ г.

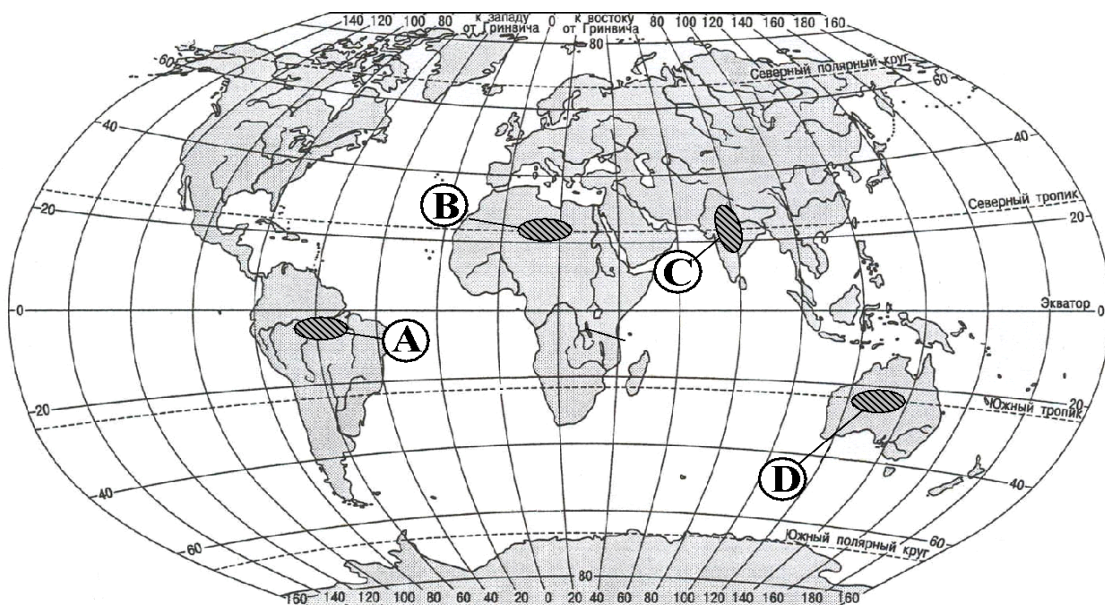
12. Для какого типа умеренного климата характерны самые низкие зимние температуры?

- 1) морского
- 2) умеренно-континентального
- 3) резко континентального
- 4) муссонного

Укажите номер ответа.

Ответ: _____.

13. Какой из регионов, обозначенных буквами на карте мира, является наиболее густонаселенным?



Укажите номер ответа.

Ответ: _____.

14. Какие утверждения о размерах и географическом положении Африки являются верными? Отметьте два верных ответа.

- 1) Большая часть Африки располагается в умеренном поясе освещенности.
- 2) Материк располагается в трёх климатических поясах
- 3) На западе Африку омывает Атлантический океан.
- 4) На северо-востоке материк омывается Красным морем.

Укажите номера ответов через запятую, без пробелов.

Ответ:_____.

15. Определите природную зону по её краткому описанию.

Эта природная зона занимает огромные площади на равнинах Северного полушария, в зоне распространения многолетней мерзлоты. В составе древесного яруса преобладают хвойные породы, в наземном – мхи и травы. Недостаток тепла и избыток влаги – причина малого накопления гумуса в почве. Обширные пространства заболочены.

Ответ:_____.

16. Верны ли следующие утверждения о климате Южной Америки?

- А.** Самые низкие температуры воздуха характерны для севера материка.
- Б.** Наибольшее количество осадков выпадает на Амазонской низменности.

- 1) верно только А
- 2) верно только Б
- 3) верны оба утверждения
- 4) оба утверждения неверны

Укажите номер ответа.

Ответ:_____.

17. Представьте, что Вам было поручено взять интервью у зарубежного сверстника, чтобы он познакомил Вас со своей страной. Для иллюстрации этого интервью Вы попросили его прислать несколько фотографий, сделанных в стране, в которой он живёт.

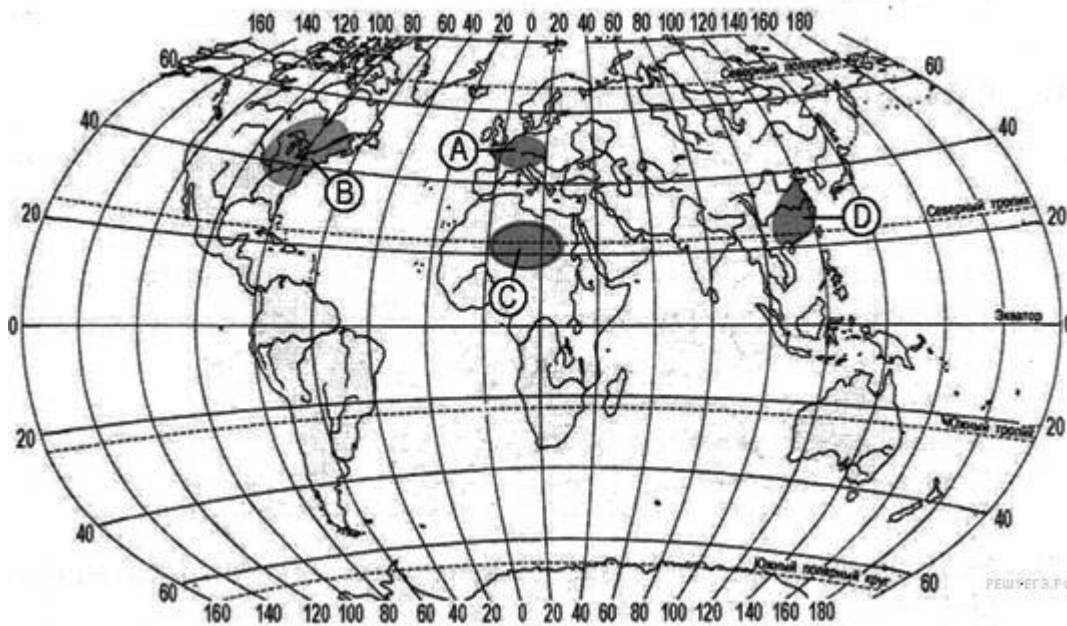
Рассмотрите фотографии и ответьте на вопросы.



- 1) В какой стране живёт Ваш сверстник?
- 2) Как называется столица этой страны?

Ответ: 1)_____.2)_____.

18. Какая из территорий, обозначенных на карте мира, имеет наименьшую среднюю плотность населения?



- 1) А
- 2) В
- 3) С
- 4) D

Ответ:_____.

19. В Австралии в естественных условиях обитают

- 1) медведь гризли и верблюд
- 2) панда и бизон
- 3) лама и зебра
- 4) утконос и сумчатый дьявол

Укажите номер ответа.

Ответ: _____.

20. Какое утверждение о крайних точках материка Евразия верно?

- 1) Крайняя северная точка Евразии - мыс Челюскин;
- 2) Евразия - часть света;
- 3) В Евразии на широте Северного полярного круга много действующих вулканов;
- 4) В основании Евразии лежит единая платформа.

Укажите номер ответа.

Ответ: _____.

Таблица ответов

Номер задания	Ответы
1	На запад / запад / в западном
2	На севере / север / в северном
3	Фернан Магеллан
4	3,4
5	3
6	4
7	3,2,1
8	2
9	3
10	4
11	126
12	3
13	3
14	3,4
15	Тайга
16	2
17	Мексика, Мехико
18	3
19	4
20	1

2 модуль

Тестовые задания

1. Страна с наибольшей плотностью населения:

- А) Япония
- Б) Алжир
- В) Швеция

2. К категории мировых религий не относится:

- А) христианство
- Б) ислам
- В) иудаизм

3. Какой из перечисленных народов является одним из самых многочисленных?

- А) бенгальцы
- Б) испанцы
- В) шведы

4. Какой из перечисленных языков **не** является официально признанным международным?

- А) французский
- Б) китайский
- В) португальский

5. Какое из перечисленных государств является монархией?

- А) Россия
- Б) Германия
- В) Великобритания

6. Наиболее молодая сфера хозяйственной деятельности людей:

- А) добывающая промышленность
- Б) сфера услуг
- В) сельское хозяйство

7. Установите соответствие между примером хозяйственной деятельности людей и сферой, к которой она относится.

Хозяйственная деятельность

- А) производство мебели
- Б) выращивание риса
- В) заготовка древесины
- Г) перевозка пассажиров

Сфера

- 1) сельское хозяйство
- 2) сфера услуг
- 3) добывающая промышленность
- 4) обрабатывающая промышленность

8. Установите соответствие между характеристикой и страной, к которой она относится.

Характеристика

- А) внутриматериковая страна
- Б) одна из крупнейших по площади стран
- В) крупнейшая из перечисленных стран по численности населения
- Г) одна из самых экономически развитых стран

Страна

- 1) Монголия
- 2) Бразилия
- 3) Германия
- 4) Россия

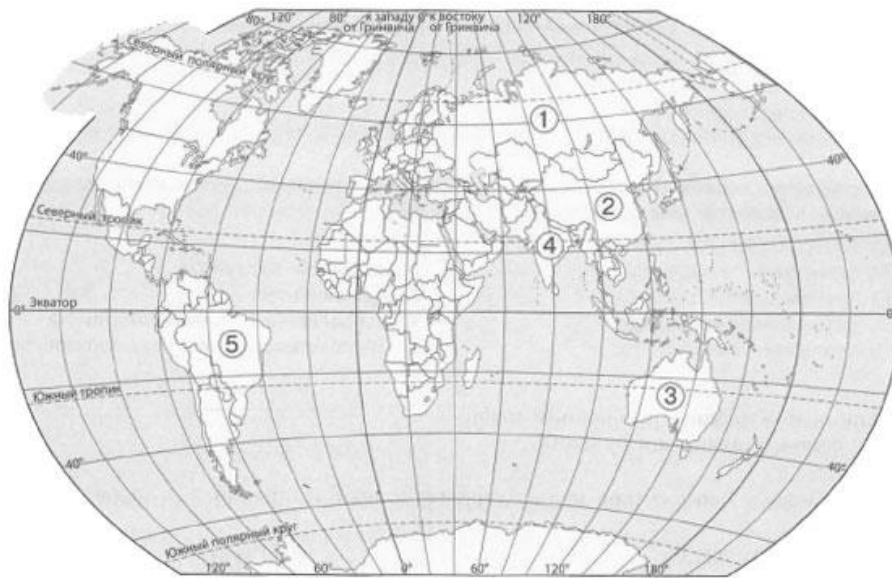
9. Найдите верные утверждения.

- А) Одной из отличительных черт народов является материальная и духовная культура.
- Б) Городское поселение отличается от сельского только численностью населения.

- В) Средняя плотность населения по миру составляет 53 чел/км².
- Г) Аграрная экономика основывается на добыче полезных ископаемых.
- Д) Токио является одной из крупнейших агломераций мира.

10. Определите, о какой стране, обозначенной на карте, идёт речь в тексте. В ответе укажите страну.

Территория этой страны имеет приморское положение и относится к одной из крупнейших по площади. Многочисленное население страны распределено неравномерно. Наибольшая плотность — на востоке. Экономика этого государства основывается на промышленности и является одной из самых развитых в мире. По форме правления эта страна является республикой, а государственный язык признан международным.



11. Укажите один из видов хозяйственной деятельности людей в тундре.

- А) добыча полезных ископаемых
- Б) разведение скота
- В) заготовка древесины

12. В какой части света производят большинство мировых товаров?

- А) Америка
- Б) Европа
- В) Азия

13. Установите соответствие между представителем органического мира и материком, для которого он характерен.

Представитель органического мира

- А) Лемур
- Б) Секвойя
- В) Ехидна
- Г) Капибара

Материк

- 1) Северная Америка
- 2) Австралия
- 3) Африка
- 4) Южная Америка

14. Определите страну по краткой характеристике.

Эта страна известна как колыбель великой древней цивилизации. Практически всю территорию занимают пустыни. В дельте протекающей по стране реки местное население активно занимается земледелием. Главный продукт, производимый в этой стране, — высококачественный хлопок.

15. Определите страну по краткой характеристике.

Организованность, пунктуальность, аккуратность — главные черты жителей этой страны. Территория не богата природными ресурсами, но страна является одной из самых экономически развитых. По разнообразию промышленной продукции она занимает второе место в мире. Здесь производят высокого качества автомобили, радиотехнику, электротехнику, химическую продукцию и многое другое.

16. Самый сухой материк на Земле

- А) Африка
- Б) Австралия
- В) Северная Америка

17. Средняя высота какого материка является наибольшей?

- А) Евразия
- Б) Африка
- В) Антарктида

18. По какому признаку можно определить морской климат?

- А) зима тёплая и влажная
- Б) лето жаркое и сухое
- В) низкие температуры зимой

19. Определите страну по краткой характеристике.

Основу нации этой страны составили английские колонисты. Последние не сколько десятилетий около половины всех открытий и изобретений мира делались здесь. Эта страна имеет очень выгодное географическое положение, сухопутная граница проходит только с двумя государствами.

20. Определите страну по краткой характеристике.

Для этой страны характерен муссонный климат, который благоприятно влияет на урожайность. Здесь выращивают чай, кофе, манго, арахис, хлопчатник и вывозят эти продукты в другие страны. Наряду с сельским хозяйством в последние годы набирает обороты и промышленность, в том числе производство авиа- и космического оборудования. В этой стране располагается самое влажное место на Земле.

Таблица ответов

Номер задания	Ответы
1	А
2	В
3	А
4	В
5	В
6	В
7	4132
8	1423
9	АВД
10	Китай
11	А
12	В
13	А3 Б1 В2 Г4
14	Египет
15	Германия
16	Б
17	В
18	А
19	США
20	Индия